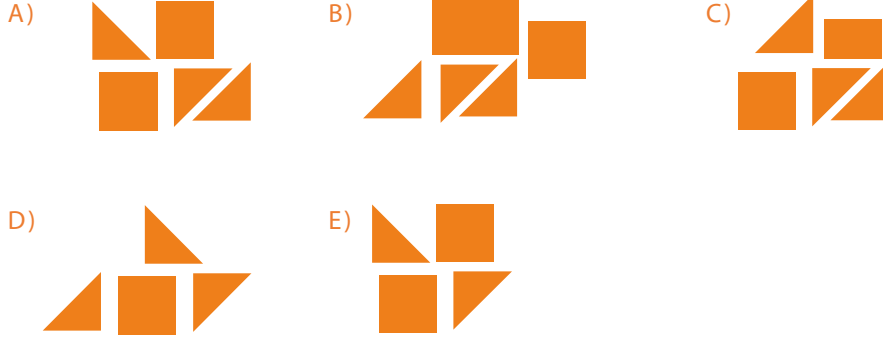


Genel Yetenek Testi (GYT) Örnek Sorular

C) GÖRSEL-UZAMSAL AKIL YÜRÜTME

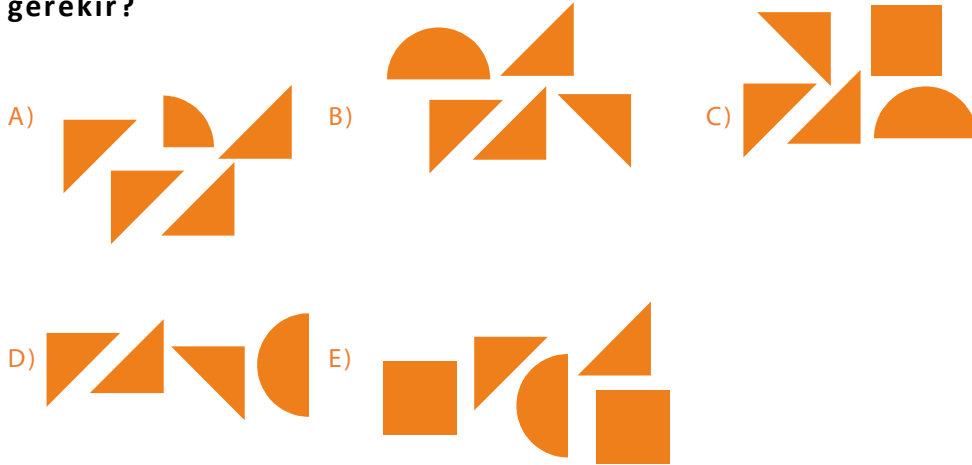
Şekil Birleştirme

- 1) Yandaki düzlemsel şekli oluşturmak için parçaların birbirini örtmeyeceği bir biçimde seçeneklerde gösterilen şekil setlerinden hangisinin kullanılması gerekir?



CEVAP: E

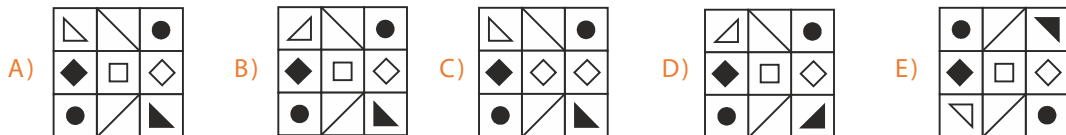
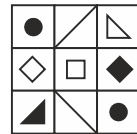
- 2) Yandaki düzlemsel şekli oluşturmak için parçaların birbirini örtmeyeceği bir biçimde seçeneklerde gösterilen şekil setlerinden hangisinin kullanılması gerekir?



CEVAP: B


Yansımalar

- 3) Aşağıdakilerden hangisi, yandaki şeklin aynadaki görüntüsüdür?



CEVAP: B


- 4) Aşağıdakilerden hangisi, yandaki şeklin aynadaki görüntüsüdür?



CEVAP: A

Küpler ve Açınımlar

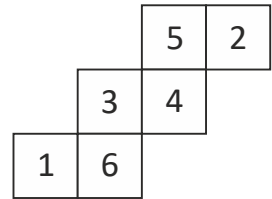
- 5) Aşağıdaki resim, her yüzünde farklı bir figürün olduğu bir küpün farklı bakış açılarına göre durumunu göstermektedir. Buna göre, "yıldız" ve "artı" figürlerinin karşısında bulunan yüzelerde sırasıyla hangi figürler bulunmaktadır?



- A) KARE ve DAİRE figürleri
B) ARTI ve YILDIZ figürleri
C) DİKDÖTGEN ve YILDIZ figürleri
D) ARTI ve ÜÇGEN figürleri
E) DAİRE ve YILDIZ figürleri

CEVAP: B

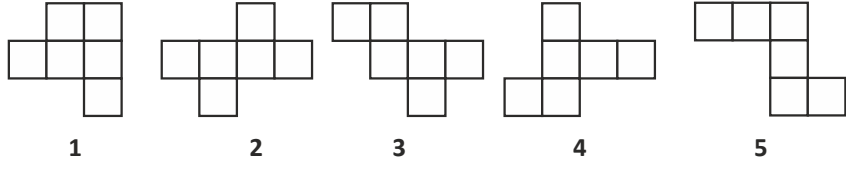
- 6) Eş karelerden oluşan yandaki kâğıt parçası küp oluşacak biçimde katlandığı zaman "1" numaralı yüzeyin karşısında hangi numaralı yüzey olur?



- A) 6
B) 5
C) 4
D) 3
E) 2

CEVAP: C

- 7) Aşağıdaki düzlemsel kâğıt parçalarından hangisi veya hangileri katlandığı zaman küp oluşmaz?

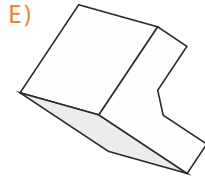
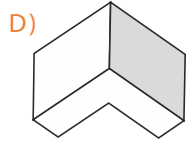
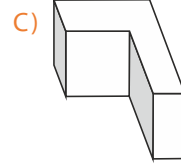
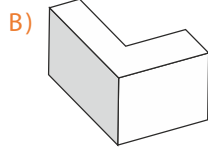
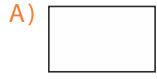
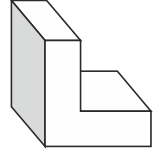


- A) Sadece 1 B) Sadece 3 C) 1 ve 4 D) 2 ve 5 E) 1 ve 5

CEVAP: E

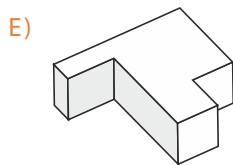
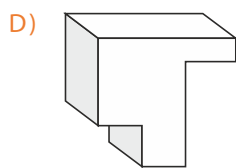
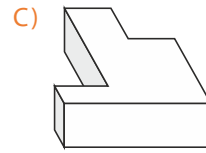
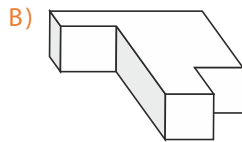
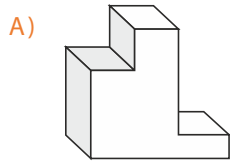
Dönme Hareketleri

- 8) Aşağıdakilerden hangisi, yandaki üç boyutlu cismin dönmüş biçimlerinden biri değildir?



CEVAP: E

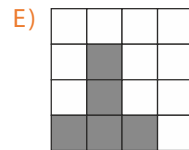
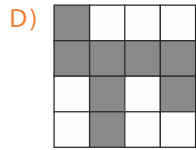
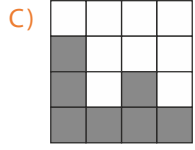
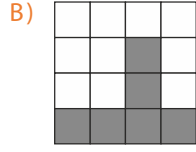
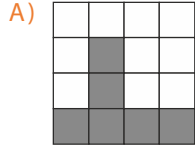
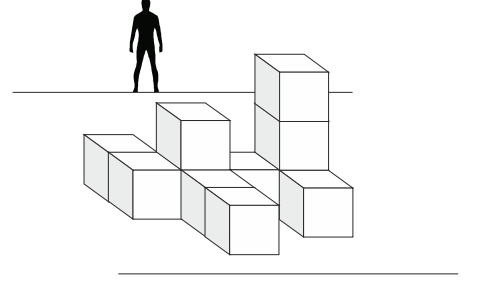
- 9) döndüğünde elde edildiğine göre döndüğünde zaman aşağıdakilerden hangisi elde edilir?



CEVAP: B

Perspektifler

10) 11 eş küple yandaki yapı oluşturulmuştur. Bu yapıya tam arkadan dik bir biçimde bakan birisi yapıyı nasıl görür?



CEVAP: C